

Relaciones Algebráicas

Scorer	CU	PS	V	C	Acc

Name/Nombre _____

Date/Fecha _____


Teacher/Maestro _____

- Excede
 Cumple
 Todavía No Cumple
 En Demanda
 Revisado/Repetido
 Modificado


Comments: _____

Semillas de Manzana


La manzana 1 tiene 2 semillas. La manzana 2 tiene 4 semillas. La manzana 3 tiene 6 semillas. Si este patrón continúa a, Muestra cuál tendrá 12.




1




2




3




4




5




6



7



8



9

1A01

Scorer	CU	PS	V	C	Acc

Name/Nombre _____

Date/Fecha _____

Teacher/Maestro _____

- Excede
 Cumple
 Todavía No Cumple
 En Demanda
 Revisado/Repetido
 Modificado

Comments: _____

Pepe

Pepe está rociando canicas. El domingo juntó 2 canicas. El lunes juntó 4 canicas. El martes Pepe juntó 6 canicas. El miércoles juntó 8. Si este patrón continúa, ¿Cuántas canicas juntará para el sábado?

Sunday	Monday	Tuesday	Wednesday	Thursday	Friday	Saturday
● ●	● ● ● ●	● ● ● ● ● ●	● ● ● ● ● ● ● ●			

Scorer	CU	PS	V	C	Acc

Name/Nombre _____

Date/Fecha _____

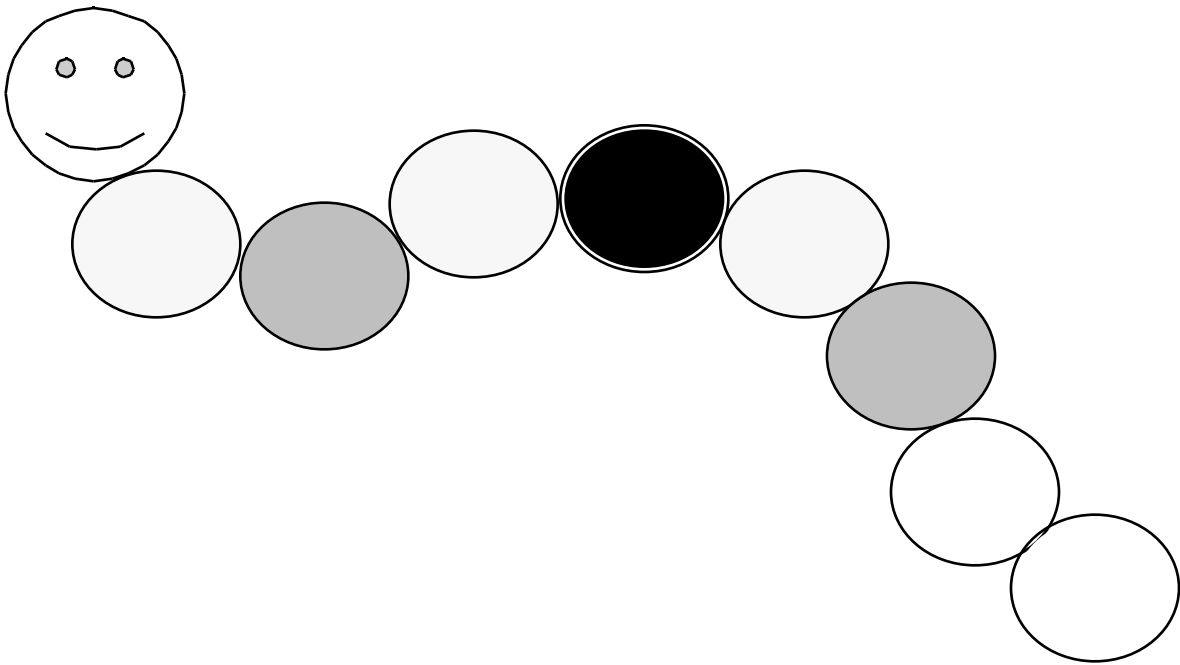
Teacher/Maestro _____

- Excede
 Cumple
 Todavía No Cumple
 En Demanda
 Revisado/Repetido
 Modificado

Comments: _____

El gusanito

Mira el cuerpo del gusanito. Completa el patrón.



Scorer	CU	PS	V	C	Acc

Name/Nombre _____

Date/Fecha _____

Teacher/Maestro _____

- Excede
 Cumple
 Todavía No Cumple
 En Demanda
 Revisado/Repetido
 Modificado

Comments: _____

Calabazas

**Mira las hileras de calabazas. Trata de encontrar un patrón.
Complete el patrón.**



Scorer	CU	PS	V	C	Acc

Name/Nombre _____

Date/Fecha _____


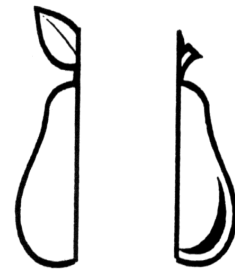

Teacher/Maestro _____

- Excede
 Cumple
 Todavía No Cumple
 En Demanda
 Revisado/Repetido
 Modificado

Comments: _____

La caja de frutas

**¿Cómo se va a ver la naranja cuando salga de la caja?
Muestra lo que piensas.**



Scorer	CU	PS	V	C	Acc

Name/Nombre _____

Date/Fecha _____

Teacher/Maestro _____

- Excede Cumple Todavía No Cumple En Demanda Revisado/Repetido
 Modificado

Comments: _____

Los zapatos escondidos

Samuel tiene 11 pares de zapatos. ¡Y todos los tiene escondidos debajo de su cama! ¿Cuántos zapatos tiene Samuel debajo de su cama? Demuestra lo que piensas.