

# Geometría

Scorer	CU	PS	V	C	Acc

Name/Nombre \_\_\_\_\_

Date/Fecha \_\_\_\_\_

Teacher/Maestro \_\_\_\_\_


- Excede   
 Cumple   
 Todavía No Cumple   
 En Demanda   
 Revisado/Repetido  
 Modificado

Comments: \_\_\_\_\_

(Geometría)

## Clasificación de figuras

**Muestre las diferentes maneras de clasificar las figuras.**



2G01

Scorer	CU	PS	V	C	Acc

Name/Nombre \_\_\_\_\_

Date/Fecha \_\_\_\_\_

Teacher/Maestro \_\_\_\_\_

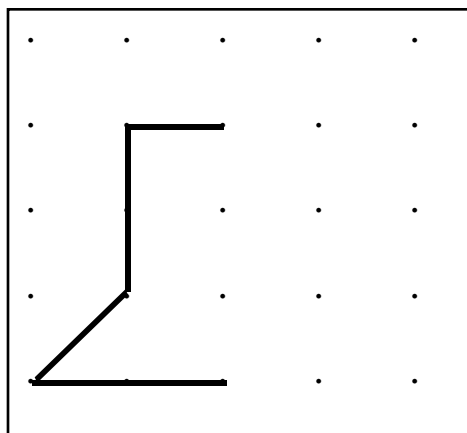
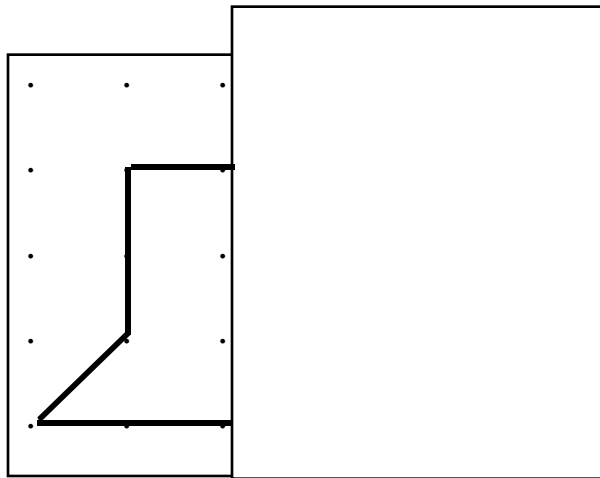
- Excede   
 Cumple   
 Todavía No Cumple   
 En Demanda   
 Revisado/Repetido  
 Modificado

Comments: \_\_\_\_\_

(Geometría)

## Figuras simétricas

**Yo hice una figura simétrica. Tomás puso un papel encima de la mitad de mi figura. Dibuje la mitad que falta. Muestre cómo sabe que la figura es simétrica.**



2G02

Scorer	CU	PS	V	C	Acc

Name/Nombre \_\_\_\_\_

Date/Fecha \_\_\_\_\_

Teacher/Maestro \_\_\_\_\_

- Excede   
 Cumple   
 Todavía No Cumple   
 En Demanda   
 Revisado/Repetido   
 Modificado

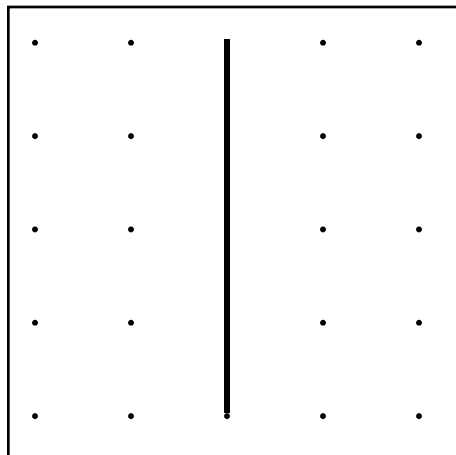
Comments: \_\_\_\_\_

(Geometría)

## Linea Simétrica

---

**Use esta linea simétrica. Elabore una figura simétrica. Diga o muestre cómo sabe que su figura es métrica.**



Scorer	CU	PS	V	C	Acc

Name/Nombre \_\_\_\_\_

Date/Fecha \_\_\_\_\_

Teacher/Maestro \_\_\_\_\_

- Excede    Cumple    Todavía No Cumple    En Demanda    Revisado/Repetido  
 Modificado

Comments: \_\_\_\_\_

(Geometría)

## **La figura de una casa**

---

**Dibuje una casa de una planta para que la casa parezca un rectángulo y el techo un triángulo. La casa tiene dos ventanas de cuadro, y la puerta es un rectángulo con una ventana hexagonal.**

Scorer	CU	PS	V	C	Acc

Name/Nombre \_\_\_\_\_

Date/Fecha \_\_\_\_\_

Teacher/Maestro \_\_\_\_\_

- Excede  
 Cumple  
 Todavía No Cumple  
 En Demanda  
 Revisado/Repetido  
 Modificado

Comments: \_\_\_\_\_  
 \_\_\_\_\_

(Geometría)

## Clases de cuadrilateros

---

**Utilizando las figuras que conoces, agrupa estos cuadrilateros.  
 Explica como los agrupaste.**

